

# LGS

LİSE GEÇİŞ SINAVI

MEB BECERİ  
TEMELLİ  
SORULAR  
İÇERMEKTEDİR.

%100 SINAV FORMATINDA  
GERÇEK BİR SINAV DENEYİMİ

# SÖZELCİYİZ

200 YENİ NESİL  
TÜRKÇE  
SORUSU

100 T.C. İNKILAP TARİHİ  
VE ATATÜRKÇÜLÜK  
SORUSU

100 YENİ NESİL  
İNGİLİZCE  
SORUSU

100 DİN KÜLTÜRÜ  
VE AHLAK BİLGİSİ  
SORUSU

# 40 DENEME

10 TÜRKÇE  
DENEMESİ

10 T.C. İNKILAP TARİHİ  
VE ATATÜRKÇÜLÜK  
DENEMESİ

10 DİN KÜLTÜRÜ VE  
AHLAK BİLGİSİ  
DENEMESİ

10 YABANCI DİL  
(İNGİLİZCE)  
DENEMESİ





- 1. Ara Tatil Denemeleri
- Yarıyıl Tatili Denemeleri
- 2. Ara Tatil Denemeleri
- Genel Denemeler

Hasan GÜLER  
Caner FİDAN  
Muhammet AKDENİZ  
Selçuk KAYA

pissa  
gelecek burada



## TÜRKÇE

ANORMAL AŞINMALAR	NEDENLERİ
 Lastik özellikle omuz bölgelerinde poligon şeklinde aşınır.	1. Lastik ile jant merkezlemesinde kaçıklık ya da eğrilik 2. Gevsek tekerlek bilyaları 3. Balanssız tekerlek veya dönen aksam
 Lastiğin yarısı hızlı bir şekilde aşınır.	1. Balanssız tekerlek veya dönen aksam 2. Lastik ile jant merkezlemesinde kaçıklık 3. Eğri jant
 Lastiğin sırt ortasında bir kısmı aşınır.	1. Ani kalkış ve keskin fren 2. Fren kasnağının belli bir yerinin eğriliği 3. Döner aksamda aşırı balanssızlık
 Lastiğin sadece bir yanındaki omuzlar aşınır.	1. Kamber ve Toe-in ayarsızlığı 2. Kesik virajlara hızlı girme
 Sırtın orta bölgesi aşırı aşınır.	Yüksek lastik şişirme basıncı.
 Sırtın omuzlara yakın bölgesi aşırı aşınır.	1. Aşırı yükleme 2. Az hava
 Olukların sadece bir tarafı testere dişi gibi aşınır.	1. Kamber ve Toe-in ayarsızlığı 2. Keskin virajlara hızlı girme
 Dişli tip lastiklerin dişlerinin bir tarafı aşırı şekilde aşınır.	Bütün dişli tip lastiklerde görülen bir durumdur. Önlemek için lastik yerleri değiştirilmelidir.

Aşağıda şoförler ve yaşadıkları anormal aşınma şekilleri verilmiştir.

- I. Şoför: Lastiğin yarısı hızlı şekilde aşınır.
- II. Şoför: Lastiğin sadece bir yanındaki omuzlar aşınır.
- III. Şoför: Olukların sadece bir tarafı testere dişi gibi aşınır.
- IV. Şoför: Lastik, özellikle omuz bölgelerinde poligon şeklinde aşınır.

**Buna göre hangi şoförlerin lastiklerindeki aşınma nedenleri aynı olabilir?**

- A) Sadece I ve IV.
- B) Sadece II ve III.
- C) I, II ve III.
- D) I ve IV. ile II ve III.

## TÜRKÇE

Türkiye genelinde şubeleri bulunan bir spor salonunun üyelik kartında şehir kodu, şube kodu, branş kodu ve abonelik gün sayısı kodlanmış bir biçimde gösterilmektedir.

**Spor Salonu**  
Ad: [Fotograf]  
Soyad: [Fotograf]  
Üye Numarası: 34002 02212

Şubenin hangi şehirde olduğu    Şehirdeki şubenin kodu    Hangi branşta spor yaptığı    Abonelik gün sayısı

**Şubelerin olduğu şehirler**  
34-İstanbul  
35-İzmir  
06-Ankara

**Spor Branşları**  
01-Vücut Geliştirme  
02-Yüzme  
03-Atletizm

**Spor Salonu**  
Ad: Erkan  
Soyad: ÖZTÜRK  
Üye Numarası: 3500301180

**Spor Salonu**  
Ad: Buse  
Soyad: TOPRAK  
Üye Numarası: 06004 03090

**Spor Salonu**  
Ad: Meltem  
Soyad: ATEŞ  
Üye Numarası: 34001 02360

Yukarıda verilen görselde bir spor salonunun çıkartmış olduğu üyelik kartları gösterilmektedir. Üç büyük şehirde şubeleri olan spor salonunun üyelik kartları üzerinde hangi şehir, şube kodu, branş kodu ve yapılan abonelik gün sayısı gösterilmiştir. Erkan, Buse ve Meltem isimli kişilerin üyelik kartları verilmiştir.

**Buna göre,**

- I. Meltem, Erkan'a göre daha uzun süreli abone olmuştur.
- II. Spor salonunun Ankara'da en az beş tane şubesi vardır.
- III. Buse atletizm, Erkan yüzme alanında spor salonuna gitmektedir.
- IV. Erkan 6 aylığına, Buse ise 3 aylığına üye olmuştur.
- V. Spor salonuna en uzun süre Meltem üye olmuştur.

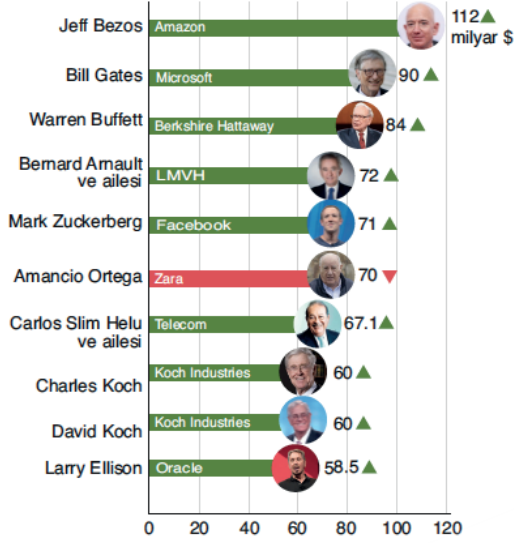
Yargılarından hangileri çıkarılabilir?

- A) I, II ve III.      B) II, IV ve V.      C) II ve IV.      D) I, IV ve V.

## TÜRKÇE

2017'de dünyanın en zenginleri

▲ 2016'ya göre serveti arttı/serveti azaldı.



- Grafikte, kişilerin toplam serveti verilmiştir.

**Bu görselden hareketle aşağıdakilerden hangisi söylenemez?**

- A) 2016'ya oranla bu kişilerin tamamı servetini arttıramamıştır.
- B) 2018'de serveti en fazla olacak kişi belli değildir.
- C) Servetini en fazla Jeff Bezos arttırmıştır.
- D) Serveti eşit olan milyarderler vardır.

## TÜRKÇE

9. "X" ilacını hazırlarken ve kullanırken şunlara dikkat edilmelidir:

- Şişe üzerindeki işaret çizgisinin yarısına kadar su ekleyiniz.

**UYARI:** Önceden kaynatılmış ve soğutulmuş su tercih edilmelidir.

- Tozu, süspansiyon hâline getirmek için şişeyi iyice çalkalayınız.
- İlk sulandırılıştta tam bir dağılma sağlamak için ilacı 5 dakika dinlendiriniz.
- Kalan suyu (1/2) şişe üzerindeki işaretli çizgiye kadar doldurunuz ve şişeyi yeniden çalkalayınız.
- İlaç, 5 mL'lik ölçü kaşığıyla uygulanabilir.
- Her dozdan önce şişeyi iyice çalkalayınız.

**UYARI:** Mide ve bağırsak rahatsızlıkları olasılığını en aza indirmek için ilacı, öğünlerin başlangıcında ya da biraz öncesinde kullanınız.

**Bu ilacı aşağıdaki kişiler, şöyle hazırlamış ve kullanmıştır:**



Soner  
Bey

İlacını aldıktan sonra şişe üzerindeki işaret çizgisinin yarısına kadar önceden kaynatılmış ve soğutulmuş olan su eklemiştir. Daha sonra şişeyi iyice çalkalamıştır. İlk sulandırılıştta tam bir dağılma sağlamak için ilacı, 5 dakika dinlendirmiştir. Kalan suyu (1/2) şişe üzerindeki işaretli çizgiye kadar doldurmuştur. Her dozdan önce, şişeyi iyice çalkalayıp öğünlerin biraz öncesinde 5 mL'lik ölçü kaşığıyla ilacı kullanmıştır.




Sonay  
Hanım

İlacını aldıktan sonra şişe üzerindeki işaret çizgisinin yarısına kadar önceden kaynatılmış ve soğutulmuş olan su eklemiştir. Daha sonra şişeyi iyice çalkalamıştır. İlk sulandırılıştta tam bir dağılma sağlamak için ilacı, 5 dakika dinlendirmiştir. Kalan suyu (1/2) şişe üzerindeki işaretli çizgiye kadar doldurduktan sonra şişeyi yeniden çalkalamıştır. Her dozdan önce, şişeyi iyice çalkalayıp öğünlerin sonunda 5 mL'lik ölçü kaşığıyla ilacı kullanmıştır.



Fatma  
Hanım

İlacını aldıktan sonra şişe üzerindeki işaret çizgisinin yarısına kadar önceden kaynatılmış ve soğutulmuş olan su eklemiştir. Daha sonra şişeyi iyice çalkalamıştır. İlk sulandırılıştta tam bir dağılma sağlamak için ilacı, 5 dakika dinlendirmiştir. Kalan suyu (1/2) şişe üzerindeki işaretli çizgiye kadar doldurduktan sonra şişeyi yeniden çalkalamıştır. Her dozdan önce, şişeyi iyice çalkalayıp öğünlerin başında 5 mL'lik ölçü kaşığıyla ilacı kullanmıştır.



Hüseyin  
Bey

İlacını aldıktan sonra şişe üzerindeki işaret çizgisinin yarısına kadar su eklemiştir. Daha sonra şişeyi iyice çalkalamıştır. İlk sulandırılıştta tam bir dağılma sağlamak için ilacı, 5 dakika dinlendirmiştir. Kalan suyu (1/2) şişe üzerindeki işaretli çizgiye kadar doldurduktan sonra şişeyi yeniden çalkalamıştır. Her dozdan önce, şişeyi iyice çalkalayıp öğünlerin başında 5 mL'lik ölçü kaşığıyla ilacı kullanmıştır.

**Bu kişilerden kaç tanesi ilacın hazırlanış ve kullanımın kurallarına uygun hareket etmiştir?**

- A) 1                      B) 2                      C) 3                      D) 4

Taş, mermer, tunç, alçı, ağaç, bakır, fildişi, kil, çamur, macun, balmumu vb. araç ve gereçlerle herhangi bir hayvan, insan ve eşyanın sanatsal bir özellik taşıyan ve üç boyutlu olarak yapılan şekline "heykel" denir. Kolları, bacakları ve başı olmayan heykel anlamına gelen "tors", insan figürünün üst kısmını gösteren "büst", minyatür ölçeklerde yapılmış zarif, gösterişli, küçük heykelcik "biblo", yüzey üzerine yapılan yükseltme, çökertme, oyma ya da kazıma şekliyle yapılan "rolyef" gibi türleri bulunmaktadır.

**Aşağıda verilen görsellerden hangisi, parçada bahsedilen heykel türlerinden herhangi birini alt değildir?**

A)



B)



C)



D)



## TÜRKÇE

İnternet'te güvenli bir alışveriş yapmak için İnternet kullanıcıları şunlara dikkat etmelidir:

- Alışveriş yaptığınız web sitesi hakkında bilgi sahibi olun.
- Alışverişte, kişisel bilgisayarınızı kullanın. Ortak kullanıma açık ve güvenilirliğinden emin olmadığınız yerlerde alışveriş için İnternet kullanmayın.
- Kredi kartı kullanmayın. Ödemeyi havale veya EFT yaparak, sanal kart kullanarak ya da kapıda yapın.
- Mesafeli satış sözleşmesi ve ön bilgilendirme formunu okuyun.
- Sitenin iletişim bilgilerini kontrol edin.
- Ürünün garanti belgeleri, fiyat ve diğer detay bilgilerine dikkat edin.
- Kargo teslimatında ürünü kontrol edin.
- Fatura ve ödeme bilgilerinizi saklayın.

**Buna göre,**

- Ercan Bey, kendi bilgisayarını ile torununun evindeki İnternet'e girmiştir. Alışveriş yapacağı web sitesi hakkında araştırma yapıp sitenin iletişim bilgilerini kontrol etmiştir. Alacağı ürüne karar vermiştir. Mesafeli satış sözleşmesi ve ön bilgilendirme formunu okuyup, havale ile ödeme yaparak alışverişini tamamlamıştır. Kargonun getirdiği ürünü kontrol ederek teslim aldıktan sonra ürünün faturasını ve ödeme bilgilerini saklamıştır.
- Kenan Bey, kendi bilgisayarını ile AVM'deki İnternet'e girmiştir. Alışveriş yapacağı web sitesi hakkında araştırma yapıp sitenin iletişim bilgilerini kontrol etmiştir. Alacağı ürünün detay bilgilerine bakmıştır. Mesafeli satış sözleşmesi ve ön bilgilendirme formunu okuyup, EFT ile ödeme yaparak alışverişini tamamlamıştır. Kargonun getirdiği ürünü kontrol ederek teslim aldıktan sonra ürünün faturasını ve ödeme bilgilerini saklamıştır.
- Burhan Bey, kendi bilgisayarını ile oğlunun evindeki İnternet'e girmiştir. Alışveriş yapacağı web sitesi hakkında araştırma yapıp sitenin iletişim bilgilerini kontrol etmiştir. Alacağı ürünün detay bilgilerine bakmıştır. Mesafeli satış sözleşmesi ve ön bilgilendirme formunu okuyup, kapıda ödeme yaparak alışverişini tamamlamıştır. Kargonun getirdiği ürünü kontrol ederek teslim aldıktan sonra ürünün faturasını ve ödeme bilgilerini saklamıştır.
- Ersen Bey, kendi bilgisayarını ile kızının evindeki İnternet'e girmiştir. Alışveriş yapacağı web sitesi hakkında detaylı bir araştırma yapıp sitenin iletişim bilgilerini kontrol etmiştir. Alacağı ürünün detay bilgilerine bakmıştır. Mesafeli satış sözleşmesi ve ön bilgilendirme formunu okuyup, sanal kart ile ödeme yaparak alışverişini tamamlamıştır. Kargonun getirdiği ürünü teslim aldıktan sonra ürünün faturasını ve ödeme bilgilerini saklamıştır.

**bu kişilerden hangisi güvenli alışveriş yapmıştır?**

- A) Ercan Bey      B) Kenan Bey      C) Burhan Bey      D) Ersen Bey

## T.C. İNKILAP TARİHİ VE ATATÜRKÇÜLÜK

İstanbul Hükümeti tarafından Bahriye Nazırı Rauf Bey başkanlığında görevlendirilen heyet, Limni Adası'nın Mondros Limanı'na gitti. İtilaf Devletlerini temsil eden Amiral Calthorpe (Kalthorp) ile İngilizlerin zırhlı savaş gemisinde 27 Ekim 1918'de ateşkes görüşmeleri başladı. Yapılan görüşmeler sonucunda 25 madde hâlinde düzenlenen Mondros Ateşkes Antlaşması imzalandı. (30 Ekim 1918)

**Mondros Ateşkes Antlaşması'nın hangi maddeyle Doğu Anadolu'da bir Ermeni devletinin kurulması planlanmıştır?**

- A) Vilayet-i Sitte denilen altı doğu ilinde (Erzurum, Van, Bitlis, Sivas, Harput, Diyarbakır) herhangi bir karışıklık çıkarsa İtilaf Devletleri buraları işgal hakkına sahip olacak.
- B) Tüm liman ve tersaneler İtilaf Devletlerinin kontrolünde olacak.
- C) Toros Tünelleri, İtilaf Devletleri tarafından işgal edilecek.
- D) Boğazlar, İtilaf Devletlerine açılacak, Karadeniz'e girişler serbest olacak.



## T.C. İNKILAP TARİHİ VE ATATÜRKÇÜLÜK



Yukarıdaki Sevr Antlaşması haritasında Osmanlı sınırları ve günümüzdeki Türkiye sınırları verilmiştir.

Haritadaki bilgilere göre,

- I. Kapitülasyonlardan tüm İtilaf Devletleri yararlanacaktır.
- II. Anadolu'nun doğusunda bir Ermeni devleti kurulacaktır.
- III. Arap toprakları, İngiltere ve Fransa'nın mandası altına alınacaktır.
- IV. Doğu Trakya ve Batı Anadolu, Yunanlara verilmiştir.

Yargılardan hangisine veya hangilerine ulaşamaz?

- A) Yalnız I. B) I ve III. C) II ve IV. D) III ve IV.

1921

1928

1934

Atatürk'ün yukarıdaki imzaları incelendiğinde 1928 ve 1934'te yapılan inkılaplar ve bu inkılapların ilgili olduğu alan hangi seçenekte doğru olarak verilmiştir?

	1928 -Yapılan İnkılap	İlgili Olduğu Alan	1934 – Yapılan İnkılap	İlgili Olduğu Alan
A)	Harf inkılabı	Toplumsal	Soyadı kanunu	Eğitim ve Kültür
B)	Harf inkılabı	Eğitim ve Kültür	Soyadı kanunu	Toplumsal
C)	Soyadı kanunu	Hukuk	Harf inkılabı	Siyasal
D)	Medeni kanun	Ekonomi	Soyadı kanunu	Toplumsal

## DİN KÜLTÜRÜ VE AHLAK BİLGİSİ

İslam dininde bireyin dünya ve ahiret mutluluğunun sağlanması ve güvenli bir toplumun oluşturulması için "zaruriyat" veya "zarurat-ı hamse" denilen beş temel ilke ve değer vardır. Bunlar canın, aklın, malın, neslin ve dinin korunmasıdır. Bu haklar İslam dinine göre her insanın; din, dil, ırk, mezhep, ekonomik durum ayırt etmeksizin sahip olduğu temel haklardır.

**Aşağıda verilen ayetlerden hangisi bu paragrafta anlatılan temel haklar ile ilgili değildir?**

- A) "Ey iman edenler! (Aklı örten) içki (ve benzeri şeyler)... şeytan işi birer pisliktir. Onlardan kaçının ki kurtuluşa eresiniz." (Maide suresi, 90. ayet)"
- B) "Haklı bir sebep olmadıkça Allah'ın, öldürülmesini haram kıldığı cana kıymayın..." (İsra suresi, 3. ayet)
- C) "Aranızda birbirinizin mallarını haksız yere yemeyin. İnsanların mallarından bir kısmını bile bile günaha girerek yemek için onları hakimlere (rüşvet olarak) vermeyin." (Bakara suresi, 188. ayet)
- D) "...Hayır! Nefisleriniz sizi aldatıp böyle bir işe sürükledi. Artık bana düşen, güzel bir sabırdır..." (Yusuf suresi, 18. ayet)

"Ebu Zerr el-Gıfari (r.a.) ile Bilal-i Habeşi bir konuda anlaşamadı ve Ebu Zerr, Bilal-i Habeşi'ye "Kara kadının oğlu" dedi. Hz. Bilal (r.a.) onun bu sözünden alındı ve durumu Hz. Peygamber'e (s.a.v.) bildirdi. O da Ebu Zerr'i (r.a.) çağırarak ona, "Sende cahiliye adetlerinden biri mi var?" diye uyardı ve bu davranışın yanlışlığını belirtti. Ebu Zerr (r.a.) yaptığı davranışın yanlışlığını anladı ve Hz. Bilal'den (r.a.) özür diledi."

**Bu örnek olayda peygamberimizin takındığı tavır onun hangi yönünü ortaya çıkarmaktadır?**

- A) İstişareye önem vermesi
- B) Cesaret ve kararlılığı
- C) İnsanlara değer vermesi
- D) Merhametli ve affedici oluşu

"Andolsun ki sizi biraz korku ve açlıkla, bir de mallar, canlar ve ürünlerden eksilterek deneriz. Sabredenleri müjdele. Onlar; başlarına bir musibet gelince, "Biz şüphesiz (her şeyimizle) Allah'a aitim ve şüphesiz O'na döneceğiz" derler. İşte Rab'leri katından rahmet ve merhamet onlarıdır. Doğru yola ulaştırılmış olanlar da işte bunlardır."(Bakara suresi, 155-157. ayetler)

**Bu paragrafta aşağıdakilerden hangisine ulaşılamaz?**

- A) Musibetlere sabredemeyenler, ibadetlere devam konusunda da sabredemezler.
- B) Ahiret inancı, kişiye zorlularla mücadelede olumlu katkılar sunar.
- C) İnananlar, karşılaştıkları olumsuz durumlar karşısında sabırlı olmalıdır.
- D) Dünya insanın malı, canı, vb. konularla sınılandığı bir imtihan yeridir.

## İNGİLİZCE



What activities do you like doing with your friends?



We are really into watching movies, so we enjoy going to the movie theatre together.



All of us are crazy about listening to pop music. We love going to the pop concerts at the weekends.



We have different hobbies and interests, but we are keen on going camping together. We think it is a relaxing activity.



I like joining a slumber party with my friends. We watch a movie, listen to music and chat about many things all night.

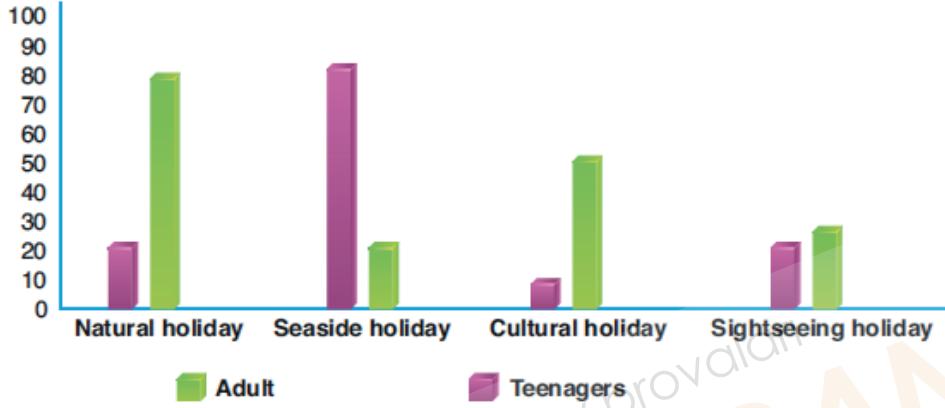
Which picture ISN'T related to the conversations above?



## İNGİLİZCE

In the Turkey, researchers asked teenagers and adults about the kinds of holiday they preferred. Here are the results:

The kinds of holiday teenagers and adults prefer In Turkey



7. Which of the following is TRUE according to the chart above?

- A) Seaside holiday is less popular among teenagers in Turkey, but adults are crazy about seaside holiday.
- B) Nearly half of adults are keen on sightseeing holiday.
- C) Turkish teens' favorite holiday is cultural holiday, but I don't like natural holiday.
- D) Most of adults in Turkey are interested in natural holiday.


## İNGİLİZCE


Answer the questions (6-7) according to the brochure below.


5<sup>th</sup> July  
12<sup>th</sup> July


**SUMMER HOLIDAY IN ANTALYA, TURKEY**  
Would you like to have fun and relax?  
Why don't you spend your next holiday in Antalya?


We are organizing a holiday in Antalya, Turkey. Our holiday offers you fascinating days and many activities.


 Sightseeing tours

 Scuba diving

 Seeing the ancient temples

 Swimming

 Paragliding

 Rafting

**Location :** On the coast southern, Turkey

**Attractions:** Perge Ancient City, Köprülü Canyon, Aspendos

**Accommodation:** all-inclusive hotels, historical hotels, bed and breakfast pensions

**Climate:** sunny and hot

800 tl  
per  
person

6. In this brochure, there is **NO** information about - - - - .
- A) the exact date of the holiday
- B) the fee for attending the holiday
- C) the traditional dishes people can try
- D) what the participants can do during the holiday
7. Which of the following is **WRONG** according to the brochure above?
- A) The holiday is going to take place in Antalya, Turkey and it costs 800 tl per person.
- B) There are different choices to stay in Antalya.
- C) The vacation will be in July and it lasts a week.
- D) People can try different activities with an instructor until they get better.