

1. Bu testte sırasıyla, Tarih-2 (1-11), Coğrafya-2 (12-22), Felsefe Grubu (23-34), Din Kültürü ve Ahlak Bilgisi (35-40), Din Kültürü ve Ahlak Bilgisi dersini yasal olarak almak zorunda olmayan veya farklı müfredat ile alanlar için Felsefe Grubu (41-46) alanlarına ait toplam 46 soru vardır.
2. Cevaplarınızı, cevap kağıdının Sosyal Bilimler Testi için ayrılan kısmına işaretleyiniz.

Makedonya Kralı İskender M.Ö. IV. yüzyılda çıktığı Asya Seferinde Hindistan'a kadar ulaşmıştır. Büyük İskender bu seferle Batı ve Doğu medeniyetlerini kaynaştırarak Helenistik Medeniyet'in ortaya çıkmasına ortam hazırlamıştır.

**Bu medeniyetin oluşmasında aşağıdaki medeniyetlerden hangisinin katkısı olmamıştır?**

- A) Mezopotamya      B) Mısır      C) İran  
D) Anadolu      E) Çin



**Yukarıdaki kavram şemasında “?” konulan yere;**

- I. siyasi birlik,  
II. milletler arası eşitlik,  
III. mezhep birliği,  
IV. millî hakimiyet

**unsurlarından hangileri getirilebilir?**

- A) Yalnız II      B) Yalnız III      C) I ve II  
D) II ve IV      E) III ve IV

Türkler ölümden sonraki yaşama inanmışlardır. Bundan dolayı ölen kişiyle birlikte eşyaları I denilen mezarlara konulmuştur. Mezarların başına ölen kişinin hayattayken öldürdüğü düşman sayısı kadar II adı verilen heykelcik dikmişlerdir.

**Yukarıdaki metinde boş bırakılan yerlere aşağıdakilerden hangisi getirilmelidir?**

- |    | I      | II     |
|----|--------|--------|
| A) | Şaman  | Balbal |
| B) | Kurgan | Yuğ    |
| C) | Tuğ    | Kurgan |
| D) | Kurgan | Balbal |
| E) | Budun  | Yabgu  |

XV ve XVI. yüzyıllarda Avrupa'da insana ve onu düşünme gücüne önem veren hümanizm akımı ortaya çıkıp yayılmıştır.

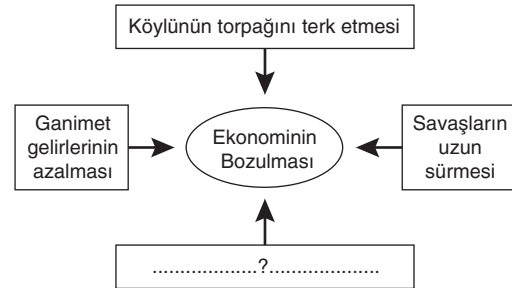
**Bu düşüncenin Avrupa'da ortaya çıkmasında;**

- I. Endülüs Emevi Devleti  
II. Altın Orda Devleti  
III. Memlükler

**İslam devletlerinden hangilerinin katkısı olmuştur?**

- A) Yalnız I      B) Yalnız II      C) Yalnız III  
D) I ve III      E) II ve III

ALTIN KARMA



Yukarıda verilen diyagramda Osmanlı Devleti'nde XVII. yüzyıldan itibaren ekonominin bozulma nedenleri verilmiştir.

**Buna göre “?” konulan yere aşağıdakilerden hangisi getirilemez?**

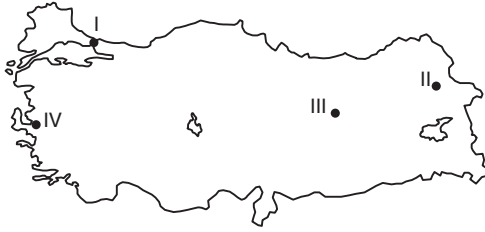
- A) Tımar sisteminin bozulması  
B) Saray masraflarının artması  
C) Sancağa çıkma geleneğine son verilmesi  
D) Gümrük gelirlerinin azalması  
E) Ordunun bozulması

## AYT / SOSYAL BİLİMLER – 2

Silindirik projeksiyon yöntemi ile çizilen bir dünya haritasında aşağıda coğrafi koordinatları verilen bölgelerden hangisinde bozulma en azdır?

- A)  $130^{\circ}$   $140^{\circ}$   $60^{\circ}$   $70^{\circ}$   
B)  $70^{\circ}$   $80^{\circ}$   $20^{\circ}$   $10^{\circ}$   
C)  $100^{\circ}$   $90^{\circ}$   $30^{\circ}$   $40^{\circ}$   
D)  $160^{\circ}$   $150^{\circ}$   $50^{\circ}$   $60^{\circ}$   
E)  $50^{\circ}$   $60^{\circ}$   $20^{\circ}$   $30^{\circ}$

Alınan göç ile verilen göç arasındaki farka net göç denir. Bir yerleşim biriminde alınan göç verilen göçten fazla ise net göç pozitif, alınan göç verilen göçten az ise net göç negatiftir. Net göçün toplam nüfusa oranına net göç hızı adı verilir. Bir yerleşim biriminde net göç hızının pozitif olması nüfusun arttığını, negatif değerde olması da nüfusun azaldığını gösterir.



**Buna göre; harita üzerinde işaretli yerlerden hangilerinde net göç hızı pozitifdir?**

- A) I ve II      B) II ve III      C) III ve IV  
D) II ve IV      E) I ve IV

Aşağıda X ve Y ülkelerinin turizm potansiyelleriyle ilgili bazı bilgiler verilmiştir.

- X ülkesi deniz kıyısında bulunmaktadır. Yazlar sıcak ve kurak geçmekte ve güneşlenme süresi oldukça uzundur.
- Y ülkesinde üç büyük din açısından kutsal sayılan şehir bulunmaktadır.

**Buna göre, X ve Y ülkelerinde hangi turizm faaliyetinin gelişmesi beklenir?**

	X	Y
A)	Kültür	Sağlık
B)	Kıyı	İnanç
C)	Eğitim	Sağlık
D)	Kıyı	Spor
E)	Eğitim	Kültür

İtalya'nın Napoli kentinin batısında Pozzuoli'de Roma dönemine ait Serapis tapınağı bulunmaktadır. Bu tapınağın 3 sütunu üzerinde tabandan 5 – 6 metre yüksekte, folasların (taş yiyen midye türü) açtığı oyuklar bulunmaktadır. Ayrıca bu canlılara ait kabukların yer aldığı sedimentler bugünkü deniz seviyesinden 7 metre yüksekte bulunmaktadır.

**Buna göre, Pozzuoli'de;**

- I. Orojenez  
II. Volkanizma  
III. Regresyon

**verilen yer kabuğu hareketlerinden hangilerinin kesin olarak gerçekleştiği söylenebilir?**

- A) I ve II      B) Yalnız III      C) Yalnız I  
D) Yalnız II      E) I, II ve III

Sokaktan rastgele geçen insanlara hayatlarından memnun olup olmadıklarını sorsak, çoğu istediği hayatı yaşamadığını, ailesinin, öğretmenlerinin, siyasetçilerin, ekonominin kendisini etkileyip yönlendirdiğini söyler. Hatta farklı imkanlara sahip olsaydı bambaşka biri olacağını da ekler. Ancak kendisine dönük hiçbir cümle kurmaz, kendisiyle yüzleşemediği için mazeretler ürettiğini, seçmek için her zaman koşullar karşısında güçlü olabileceğini düşünmez.

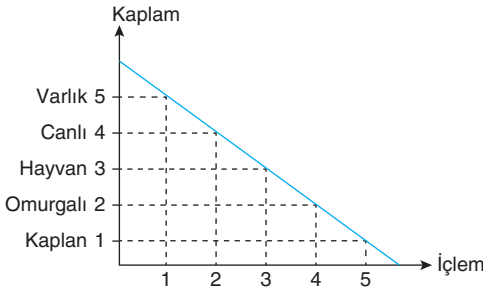
**Parçadaki düşünceleri savunun biri aşağıdaki yargılardan hangisini vurgulamaktadır?**

- A) İdeal bir toplumsal düzen bireye ideal bir yaşam sunar.  
B) Kişinin kendisini gerçekleştirebilmesi için sosyal bir varlık olması gerekir.  
C) Bireylerin eylemlerinin dayandığı ahlaki temeli toplum belirler.  
D) İnsan özgür iradesiyle kendisini belirleyebilir, kaderini çizebilir.  
E) Yaşanılan çevrenin bireyin iç dünyasını şekillendirmede önemi büyüktür.

Bireyin katıldığı toplumun kural, değer ve tutumlarını öğrenmesi, öğrendiklerine uygun davranması ve o toplumun parçası olarak sosyal bir varlık hâline gelmesi sürecine sosyalleşme, bu süreç içinde kurulan ilişkilere ise sosyal ilişki denir. Sosyal ilişkiler içinde bulunulan grubun niteliğine, kurulan iletişime, ilişkinin süresine ve ilişki kurulan kişi sayısına göre türlere ayrılır.

**Buna göre, sosyal ilişki türleriyle verilen bilgilerden hangisi yanlıştır?**

- A) Bireylerin birbirine yakın olduğu ve duygusal bağ kurdukları küçük gruplarda birincil ilişkiler kurulur.
- B) Yılın belli zamanlarında, örneğin tatil, festival ya da fuar gibi ortamlarda kurulan ilişkiler periyodik ilişkilerdir.
- C) Uzun süre devam eden köklü ve sürekli ilişkiler aile bireyleri arasındaki ilişkilerdir.
- D) Belli kurullarla belirlenen, bu yüzden samimiyete dayanmayan objektif ilişkiler ikincil ilişkilerdir.
- E) Toplumsal gruplara dahil olmayan bireylerin herhangi bir sosyal ilişki kurması mümkün değildir.



Verilen grafikte kavramların kapsam ve içlem ilişkileri gösterilmiştir.

**Buna göre, kapsam ve içlem ilişkileri gösterilen kavramlarla ilgili aşağıdakilerden hangisi söylenemez?**

- A) Kavramların kapsamları arttıkça içlemleri azalmıştır.
- B) Kaplan kavramının içlemi en fazladır.
- C) Varlık kavramı altında sıralanan tüm elemanları kapsamaktadır.
- D) Canlı kavramının içleminde varlık kavramı bulunmaktadır.
- E) Varlık kavramının içlemi en fazla kapsamı en azdır.

Modern felsefenin kurucusu sayılan Rene Descartes, "Düşünüyorum, benim varlığımın sebebi nedir? Nefsime kendi varlığımın sebebi ve yaratıcısı olarak düşünmeme imkan göremiyorum. Çünkü bende, kendimi yaratma gücü olsaydı, şüphe yok ki kendimi böyle noksan olarak değil, bütün mükemmel sıfatlarla donatmış olarak yarattırdım... O hâlde ben vücudumun yaratıcısı değilim. Kâinattaki diğer varlıklar da aynı sebeple, benim ve kendi varlıklarının yaratıcısı olamazlar. Çünkü onlar kendilerinin yaratıcı olsalardı, kendilerini bütün mükemmel sıfatlarla yaratırlardı... Annem, babam ise bedenimin vücuda gelişine bir vesileden başka bir şey değildir. Öyle ise beni yaratan kudret, ancak kemal sahibi bir varlıktır..." demiştir.

**R. Descartes'in yukarıdaki paragrafta verdiği bilgilerin Allah'ın hangi sıfatıyla daha çok ilgili olduğu söylenebilir?**

- A) Semi B) Basar C) Kelam  
D) Tekvin E) Beka

- I. Allah Teala'nın insanları diriltip dünyada iken yaptıkları işlerden hesaba çekmek üzere toplaması
- II. Ahiret hayatının evrelerinden biri olup. "öldükten sonra tekrar diriltmek" anlamına gelir.
- III. Ölümden sonra başlayıp mahşerdeki dirilişe kadar devam edecek olan kabir hayatı

**Yukarıda tanımları verilen kavramlar aşağıdakilerden hangisinde doğru verilmiştir?**

	Berzah	Haşir	Ba's
A)	I	II	III
B)	I	III	II
C)	II	III	I
D)	III	I	II
E)	III	II	I

**Aşağıdakilerden hangisi ilk Müslüman Türk topluluklarından biri değildir?**

- A) İdil Bulgarları B) Göktürkler  
C) Karahanlılar D) Gazneliler  
E) Büyük Selçuklular